

«МОСКОВСКИЙ ВТОРОКЛАССНИК XXI ВЕКА»

Логин

Вариант 2

Приглашаем совершить путешествие по залам 57-го павильона ВДНХ. Экспозиции павильона посвящены историческим эпохам Рюриковичей, Романовых и истории XX века.

Во время путешествия и выполнения заданий вас будут сопровождать юные экскурсоводы.

Задание 1

1. Наберите в адресной строке <http://myhistorypark.ru>
2. Кликните на вкладку «Расписание работы».
3. Ознакомьтесь с расписанием работы экспозиции.



Давайте сходим на экспозицию на следующей неделе. Только не в среду и не в пятницу. У меня тренировка.



В четверг и в субботу у меня музыкальная школа.

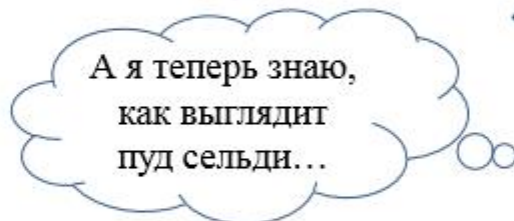
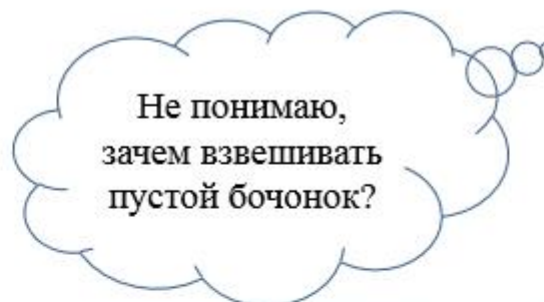


Хорошо. Встречаемся в 15:00 у входа. Но в понедельник мы с родителями едем на дачу и вернёмся во вторник вечером.

Смогут ли ребята сходить на экспозицию все вместе? Отметь знаком X в поле ответов верное утверждение.

- 1) ☐ Нет, ребята не смогут посетить экспозицию все вместе.
- 2) ☐ Да, ребята смогут посетить экспозицию все вместе.
- 3) ☐ Ребята смогут посетить экспозицию в понедельник вечером.

Задание 2



Определите, что находится в бочонке. Отметьте знаком X правильный ответ.

- 1) ☐ Бочка пустая
- 2) ☐ Сельдь солёная
- 3) ☐ Капуста квашеная

Задание 3



Описание клада

	Сребреник	Денга Дмитрия Донского	Новгородская четвертьца	Полушка Ивана IV
А	2	3	5	2
Б	3	2	2	5



Ребята, в этом кладе
сребреников столько же,
сколько полушек.



О-о-о! Сколько здесь
четвертьца!



Да, вижу! Их столько,
сколько денег Дмитрия
Донского и полушек
вместе!

В поле ответа запишите букву, которая указывает на верное описание клада.

Ответ _____

Задание 4

Куликовская битва

8 сентября 1380 года

А



Б



Условные обозначения



полки Дмитрия Донского



полки Мамай



У Дмитрия Донского были полки левой и правой руки.



Перед великим полком находился сторожевой.



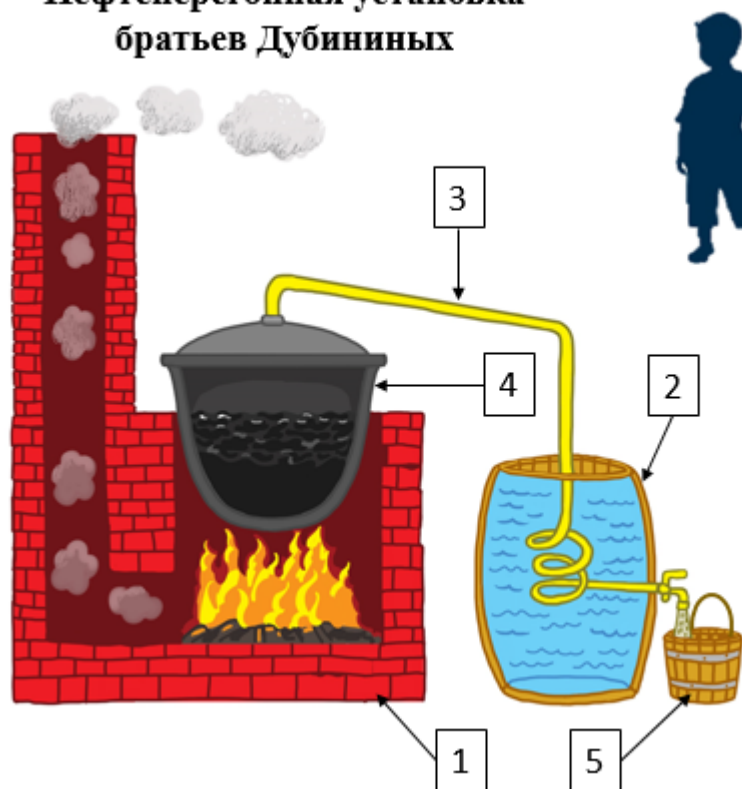
Дмитрий Донской применил новую военную тактику. Я читал, что он поставил засадный полк в лесу.

В поле ответа запишите букву, которая указывает верную карту с расположением полков Дмитрия Донского.

Ответ: _____

Задание 5

Нефтеперегонная установка братьев Дубининых



Я читал, что в 1823 году братья Дубинины первыми в России построили установку для перегонки нефти.

Установка братьев Дубининых состояла из *печи* (1) и железного *куба* (2) для нефти. В крышку куба была вмонтирована *труба* (3).

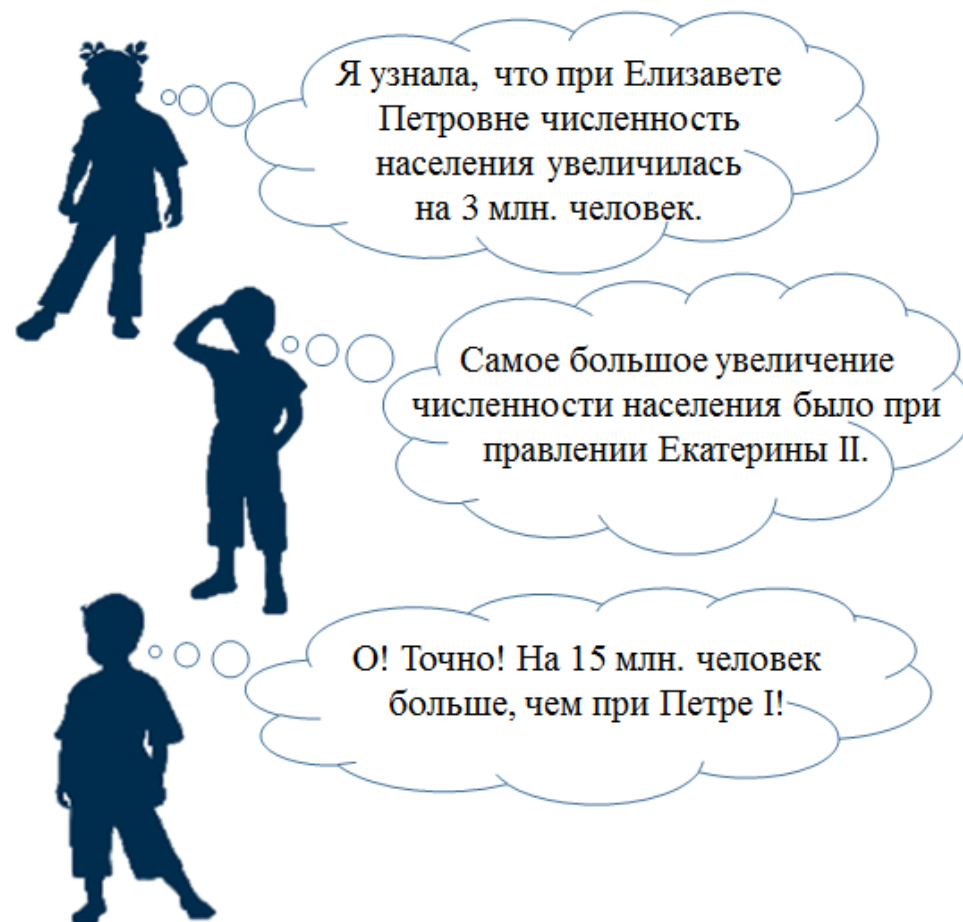
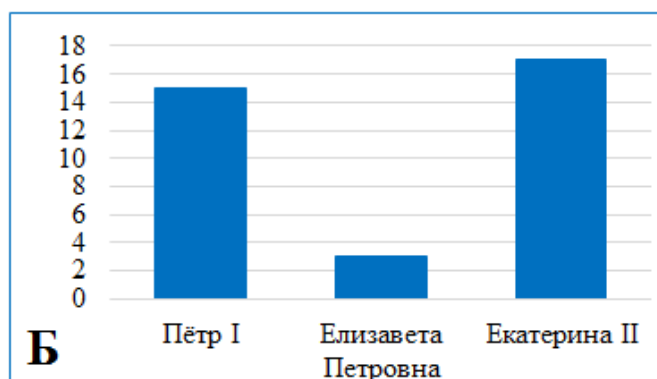
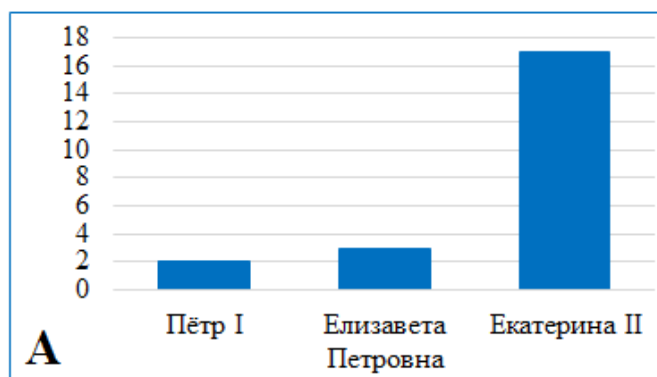
Проходя по трубе через ёмкость с холодной водой (4), пары нефти охлаждались. Полученный керосин стекал в *ведро* (5).

Художник допустил ошибку на схеме. Он перепутал две стрелки с цифрами. В поле ответов запиши без запятых какие две цифры перепутаны.

Ответ: _____

Задание 6

Численность населения России
в период с 1689 по 1796 гг.,
в млн. чел.



В поле ответа запишите **букву**, которой обозначена верная диаграмма.

Ответ _____